

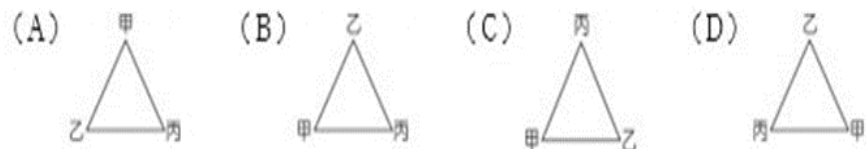
新北市立三多國民中學 113 學年度第 1 學期第 1 次定期評量 七年級社會科試題

【請依規定以 2B 鉛筆在答案卡劃記作答】

班級： 座號： 姓名：

選擇題：每題 2 分(1-17 題為地理；18-33 題為歷史；34-50 題為公民)

- () 1. 若甲在乙的西南方，乙在丙的西北方，則甲、乙、丙的相對位置是下列何者？



- () 2. 地表畫分為熱帶、溫帶、寒帶的主要依據為下列何者？
(A)赤道、回歸線
(B)赤道、本初經線
(C)本初經線、國際換日線
(D)回歸線、極圈。

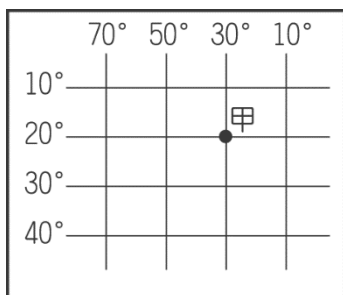
- () 3. 求救！求救！我是遠航號的王船長，船隻因為機械故障無法行駛，請求海巡單位救援。根據王船長回覆位置的內容，請問：下列何者為「絕對位置」的描述？
(A)我的船在高雄港西南方 65 公里處
(B)我的船在墾丁西方
(C)我的經緯度位置為 120°E ， 22°N
(D)我的船上有 8 個人。

- () 4. 手機裡的電子地圖是出門旅遊的好幫手，我們可以利用電子地圖規畫旅遊路線、查詢店家資訊等，請問：何者「不是」電子地圖的優點？
(A)可放大縮小 (B)資訊更新速度快
(C)攜帶太重不方便 (D)搭配 GPS 定位搜尋景點路線。

- () 5. 地球上哪一條經緯線長度最長？
(A)零度經線(B)零度緯線(C)國際換日線(D)北回歸線。
() 6. 經緯線為標示地球上地理位置的重要參考。請問：下列何者敘述「不正確」？
(A)所有經線長度都一樣等長
(B)所有緯線除赤道最長外其餘皆平行赤道較小圓線。
(C)所有經緯線都是平行線
(D)所有經緯線除南北極外都交會於一點稱絕對位置。


- () 7. 小宏想要繪製一張三多學校地圖，想要詳細標示各項資料時，下列哪一種比例尺是較適合的選擇？
(A) 1:500 (B) 1:5000 (C) 1:50000 (D) 1:5000000
() 8. (甲)東半球(乙)西半球(丙)北半球(丁)南半球，請問：台灣位於哪一位置為正確？
(A)甲、丙 (B)甲、丁(C)乙、丙(D)乙、丁。

- () 9. 附圖中的貨輪發生嚴重漏油，於是發出 SOS 求救訊號。請問：該船發生事故的絕對位置是下列何者？
(A)東經 30 度，北緯 20 度
(B)東經 20 度，南緯 30 度
(C)西經 30 度，南緯 20 度
(D)西經 20 度，北緯 30 度。

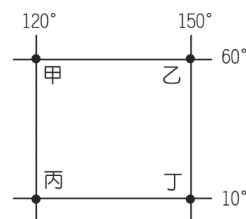


- () 10. 當地圖透過影印機放大時，下列哪一種比例尺表示方法還能夠繼續表示正確的比例？
(A) 五百萬分之一 (B) 1:5000000

(C) $\frac{1}{5000000}$ (D) 圖示法



- () 11. 若根據右下附圖在赤道以北，甲、乙、丙、丁四地的位置判斷，下列敘述哪一項「錯誤」？
(A)甲地位於丁地的西北方。
(B)乙地時間先到，所以乙地比甲地時間快 2 小時。
(C)甲乙丙丁皆位於北半球與東半球
(D)甲乙距離和丙丁距離等長。

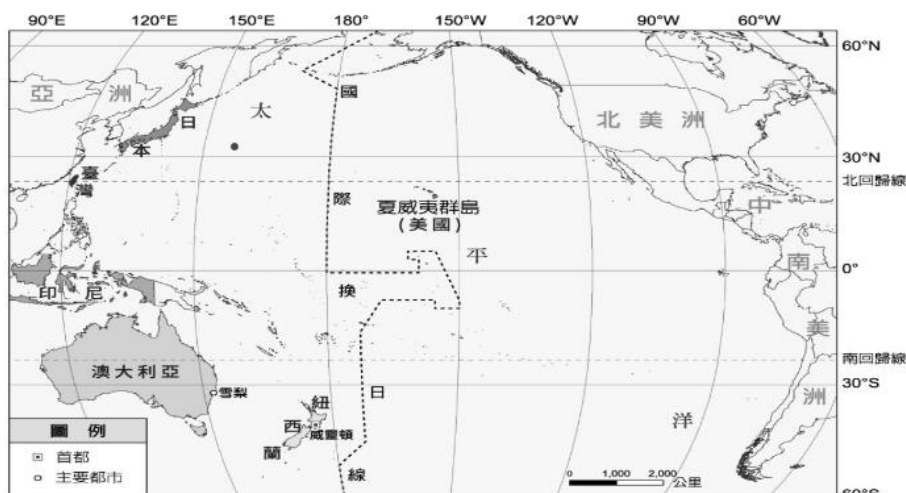


- () 12. 十月 2、3 日因山陀兒颱風襲台而放颱風假，氣象署預測山陀兒颱風登陸地點的經緯度座標為 $(121^{\circ}\text{E}$ ， $22^{\circ}\text{N})$ ，該颱風可能是在下列何處登陸？
(A)臺北九份 (B)屏東墾丁
(C)宜蘭礁溪 (D)臺中大肚山。

- () 13. 下列有關大小比例尺的特色敘述中，在同樣大小的紙張上，下列敘述何者正確？

	(A)	(B)	(C)	(D)
大比例尺	$\frac{1}{500}$	簡略	可畫範圍大	臺灣地圖
小比例尺	$\frac{1}{10,000}$	詳細	可畫範圍小	新北市地圖

◎參考下圖，阿宏冬天想去旅遊，請回答第 14 題~第 17 題：



- () 14. 下列何地與台灣時差相同，但季節卻是夏天？

(A)	美國夏威夷	$(165^{\circ}\text{W}$ ， $66^{\circ}\text{N})$
(B)	紐西蘭威靈頓	$(174^{\circ}\text{E}$ ， $41^{\circ}\text{S})$
(C)	日本東京	$(139^{\circ}\text{E}$ ， $35^{\circ}\text{N})$
(D)	澳大利亞西部	$(121^{\circ}\text{E}$ ， $26^{\circ}\text{S})$

- () 15. 阿宏寒假時去印尼旅行，服裝時會有何差異？

- (A)台灣：厚重衣物／當地：厚重衣物
(B)台灣：輕薄衣物／當地：輕薄衣物
(C)台灣：厚重衣物／當地：輕薄衣物
(D)台灣：輕薄衣物／當地：厚重衣物。

- () 16. 何處可以最先看到 2025 年，跨年的第一道曙光？

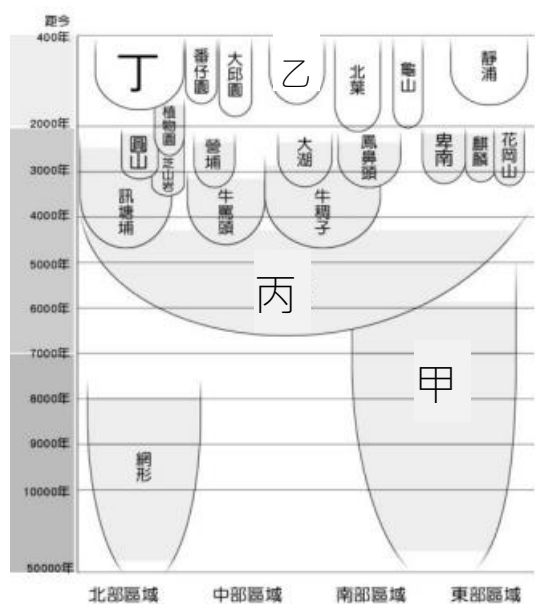
- (A)美國夏威夷 (B)紐西蘭威靈頓
(C)日本東京 (D)澳大利亞雪梨。

- () 17. 下列台灣與何地的時差敘述「不正確」？

- (A)與美西 120°W 時差 16 小時 (B)台灣比英國多 8 小時
(C)台灣比日本先看到太陽 (D)日本早上 10 點，台灣早上 9 點。

- () 18. 歷史課本是這麼說的：「臺灣於 17 世紀從史前時代進入歷史時代……。」請問：史前時代和歷史時代的劃分標準是什麼？
(A)有無用火的經驗 (B)有無使用文字
(C)是否進入農業生活 (D)有無發展出國家組織。

- () 19. 紐西蘭北部的毛利人部落來臺灣與阿美族交流。來訪的毛利人說：「阿美族的待客之道與對長者的照顧方式都與他的部落相似，……『來台灣像是探親』」。的確，根據研究，毛利人和台灣原住民，都同屬於哪個族群？(A)南島語族 (B)南亞語族 (C)高砂民族 (D)亞非民族。
- () 20. 汪汪在家中看到一本農民曆，封面上寫有「2024 年」及「甲辰年」的字樣，上述包含了哪些紀年方式？(A)西元、帝王紀年 (B)民國、干支紀年 (C)西元、干支紀年 (D)民國、帝王紀年。
- () 21. 「狗蹄山遺址」是日本考古學家國分直一先生在 1945 年發現，是樹林地區現在所知規模最大的考古遺址。根據後續研究，該址出土了磨製的石斧、石鋤，以及印有方格紋飾的陶器；請問：狗蹄山遺址應該和下圖哪個遺址，屬於同個史前時代分期？(A)甲 (B)乙 (C)丙 (D)丁。



- () 22. 台灣某史前文化遺址正在籌備一項特展，策展人依據當地考古發掘的史前遺址，準備了最足以代表其文化特色的相關課程，根據下圖中的內容判斷，該項特展最可能是？(A)長濱文化 (B)卑南文化 (C)圓山文化 (D)十三行文化。



- () 23. 清朝將原住民族區分為「生番」及「熟番」，其分類的標準為何？(A)以是否納稅、服勞役為區分標準，有納稅的為「熟番」，反之為「生番」(B)以居住地區的不同加以區分，住平地的為「熟番」，住山上的是「生番」(C)以生活方式不同加以區分，農業維生的是「熟番」，打獵維生的是「生番」(D)以種族加以區分，具有漢人血統的稱「熟番」，純粹原住民血統的為「生番」。
- () 24. 臺灣經歷了漫長的史前時代，在 16、17 世紀忽然成為日本人、荷蘭人、西班牙等人在東亞地區進行貿易的重要據點，受到國際重視的原因主要為何？(A)預備占領中國的基地 (B)東亞海上航線的樞紐 (C)獲取熱帶資源的寶地 (D)預備侵略日本的基地。

- () 25. 右圖是「沈有容諭退紅毛番韋麻郎等」紀念碑，這個石碑被發現時，還被當成一座廟的水溝蓋，後來人們才知它有高度的史料價值。關於這個紀念碑的敘述何者正確？(A)這座廟位於臺南安平 (B)韋麻郎應是葡萄牙人 (C)此碑是沈有容與韋麻郎兩人簽訂商約的紀念 (D)此碑說明了荷蘭人為何轉往臺灣發展的原因。



- () 26. 阿奇搭乘火車，發現列車不斷經過以「營」為名的車站，例如：新營、柳營、林鳳營、左營。請問：阿奇搭乘的火車最有可能行經哪一路段？(A)樹林—新竹 (B)新竹—台中 (C)台中—嘉義 (D)嘉義—高雄。
- () 27. 承上題，這些地名應與下列歷史事件有關？(A)原住民族開闢的部落 (B)荷蘭對招募來臺耕作漢人的安置 (C)鄭氏治臺時的軍屯政策 (D)施琅攻臺後的軍事佈署。
- () 28. 請由下圖漫畫內容推測，乙國商人最有可能是哪一國人？(A)荷蘭人 (B)英國人 (C)葡萄牙人 (D)西班牙人。

聽說日本政府即將要宣布鎖國政策，嚴格禁止人民和外國商人進行貿易



甲國商人

我也有聽到消息，但我國不在日本政府禁止的範圍內，仍然可以在長崎進行貿易



乙國商人

- () 29. 清政府為了打擊某一勢力，曾在中國東南沿海實施長達 20 多年的海禁和遷界令，強令沿海居民內遷，且原有村莊、田地皆須燒棄，直到 1683 年康熙皇帝才下令廢除。根據上述內容判斷，清政府實施海禁政策與下列何者最有關聯？(A)防止倭寇劫掠東南沿海 (B)避免荷蘭再度強占澎湖 (C)切斷鄭氏糧食補給資源 (D)擔心西班牙計畫占領澳門。
- () 30. 1642 年西班牙人撤離臺灣，其原因不包括下列何者？(A)對日貿易受挫 (B)逐漸減少在臺駐軍 (C)荷蘭人對其虎視眈眈 (D)鄭成功派兵攻打臺灣。
- () 31. 右圖是某時期臺灣對外貿易示意圖。有關圖中的敘述何者正確？(A)此圖應該是荷蘭治臺時期 (B)此圖應是西班牙治臺時期 (C)甲是出口稻米和蔗糖等商品 (D)乙、丙應是指軍用物資。



注意：考卷還有第二張

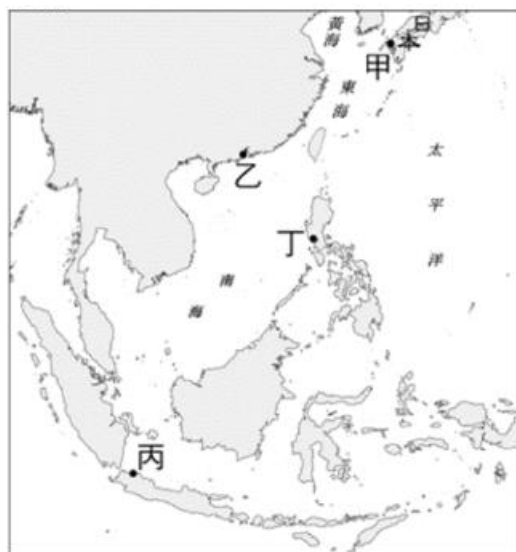
◎【請回答32-33題】

電玩公司設計一款以史實為基礎的遊戲—「大航海時代的臺灣」，主角查理是由荷蘭聯合東印度公司派遣、率領船隊來到臺灣的長官。他必須通過下列三道關卡，才能夠成為臺灣的統治者。請回答下列問題：

- 第一關：找到最佳地點興建城堡，作為在臺灣的統治中心
第二關：取得臺灣的各項資源，以公司的名義轉賣各地
第三關：鎮壓或驅逐島上的其他勢力，穩固對臺灣南部的統治

- () 32. 根據第一關卡的要求，查理從公司亞洲總部出發，前往臺灣，其總部應位於右圖何處？


(A) 丁 (B) 丙
(C) 乙 (D) 甲。



- () 33. 查理想要達成第二道關卡的任務，必須取得臺灣的哪些資源作為商品？ (A) 絲綢、瓷器、香料
(B) 白銀、鹿皮、稻米 (C) 稻米、蔗糖、鹿皮 (D) 鹿皮、香料、蔗糖。

- () 34. 黃小承是多多多國中的七年級學生，正在和父母討論社團的志願選填問題，小承表示自己想參加烹飪社、也想參加手工藝社，另外覺得瑜珈社也很適合自己。小承的父母則表示，不論選擇什麼社團，只要是孩子喜歡的，都會全力支持他。請問：上述內容顯示小承的父母落實何種精神？(A) 保障人性尊嚴 (B) 捍衛公平正義 (C) 理性思考批判 (D) 縱容自由放任。

- () 35. 公民老師利用右圖幫學生複習某一項重要概念，請問：以下四個重點何者**錯誤**了？(A) 公民投票權需要年滿 18 歲 (B) 擁有公民投票權者為狹義公民 (C) 公民投票是針對事情的投票 (D) 公平投票可以罷免不適任的政治人物。



- () 36. 你有聽過「台灣事實查核教育基金會」嗎？此組織致力於執行公共事務相關訊息之事實查核。希望能抑制不實資訊的負面影響，提升公眾的資訊素養。請問：此組織的設立最主要是想培養現代公民的何種素養？ (A) 理性思考批判 (B) 遵守法律規範 (C) 參與公共事務 (D) 捍衛公平正義。

- () 37. 宇小竣在臉書上新發一則動態，內容寫到：「下個月起，我將開始擁有神聖的選舉罷免權，感覺太棒啦！」請問：下列敘述，何者最可能是正確的？(A) 宇小竣目前 17 歲 (B) 宇小竣即將大學畢業 (C) 假設下個月即將舉辦罷免總統的投票，宇小竣有投票權 (D) 代表下個月開始，宇小竣也會有公民投票權。

- () 38. 新北市某高中在校慶時舉辦「男裙週」活動，希望同學們可以跳出自己的「性別」，換一個角度重新審視自己及這個社會。此外，該校的服裝儀容也規定，男女皆可穿長褲或裙子上學，校方表示，這是尊重學生選擇制服的自主性。請問：上述活動與服儀規定，代表了什麼意義？(A) 男生和女生，在先天上就是有所差異

(B) 女生穿裙子、男生穿褲子是天經地義 (C) 性別角色的認知與刻板印象是可以被改變的 (D) 穿裙子是女性化的象徵，會被認為沒有男子氣概。

- () 39. 阿豪和太太皆具備中華民國的國籍，兩人結婚後到美國工作，並在美國生下寶貝女兒美珠，請問：下列關於美珠與父母國籍的敘述，何者正確？(A) 我國為屬地主義，因此美珠沒有辦法取得中華民國的國籍 (B) 我國為屬人主義，美國為屬地主義，因此美珠可能擁有兩國的國籍 (C) 美珠要返國辦理歸化手續，才能取得中華民國的國籍 (D) 美國為屬人主義，因此美珠沒有辦法取得美國的國籍。

- () 40. 弱勢群體常面臨歧視和不公平對待，保障他們的權利有助於維護他們的尊嚴，並能讓他們的生活得到支持。請問：下列哪一個敘述的對象**不符合**此條件？
(A) 提供「學生」免費營養午餐，讓學童可以獲得較好的飲食照顧 (B) 提供「街友」食物與住宿，讓他有基本的生活條件 (C) 提供「原住民」自身語言與文化的教育，使其有能力延續傳統文化 (D) 提供「獨居老人」關懷服務，讓他享有被人照顧的感受。

- () 41. 藝人吳鳳原本是土耳其人，因緣際會下來到我國工作並與我國女子結婚，在臺定居後，並完成取得我國國籍的申請手續。請問：關於吳鳳取得我國國籍的方式，下列敘述何者正確？(A) 其根據為屬人原則 (B) 其取得方式為歸化 (C) 其根據為居住地原則 (D) 屬於先天取得途徑。

- () 42. 接續上題，下列四位皆是已經取得中華民國國籍的國民，請問：何人與吳鳳取得國籍的**途徑相同**？

	出生地	父親國籍	母親國籍
(A) 王軒	阿根廷	中華民國	中華民國
(B) 林傑	桃園	美國	中華民國
(C) 陳涵	日本	義大利	美國
(D) 李賢	臺北市	中華民國	巴西

- () 43. 下列是四位網友在網路聊天室聊天的內容，請根據他們的敘述判斷，何人在可能在聊天**當時**已具備**狹義公民**的資格？(A) 我現在是 16 歲的高二學生，爸爸是土耳其人，媽媽具中華民國國籍 (B) 我爸媽都是去英國工作的臺灣人，我在臺灣出生，現在是 13 歲的國一學生 (C) 我因為結婚從韓國來到臺灣，等了五年，下週將前往內政部申請歸化 (D) 我在美國出生和工作，但上次的市長罷免投票，我有飛回來投下神聖一票。

- () 44. 欣小穎正在研讀相關法律條文，請問：依據校園性騷擾、性侵害與性霸凌事件處理流程，下列選項中何者最為正確？(A) 被害人可以向學校總務處或教務處申請調查 (B) 調查結束後需嚴厲懲處加害人，並請其轉學以避免其他同學受害 (C) 學校組成性別平等委員會進行調查，調查時需公開當事人基本資料 (D) 學校調查或輔導性平案件後，須彙報教育主管機關。

注意：背後還有題目，請翻面繼續作答

【★請根據文章，回答 45-47 題】

「育嬰留職停薪」不只是母親的權利，根據我國法律規定，父母都可以享有這項權利，並領取育嬰留職停薪的補助。這不僅能避免育兒重擔全落在母親身上，也可促進父母平等參與育兒，並增強家庭成員之間的情感。

- () 45. 請問：上述的政策可能帶來許多正面影響，其中不包括哪一項？(A)降低父母的生育意願 (B)提升父親與孩子之間的關係 (C)女性投入職場人數增加 (D)降低性別刻板印象。
- () 46. 請問：文章中所提及的「我國法律」，最可能是下列哪一項？(A)《性騷擾防治法》 (B)《中華民國憲法》 (C)《性別平等工作法》 (D)《性別平等教育法》。
- () 47. 職場中的性別平等不該只是口號，請問以下四件事，哪一項作法落實了性別平權？(A)職場上競爭激烈，因此設立「禁孕條款」是合理的 (B)為因應女性員工的產假，男性員工也可申請陪產假 (C)文書工作以女性為主，對外開拓市場則以男性為主 (D)公司升遷制度應該以性別與學歷為考量，而非能力。

【★請根據文章，回答 48-50 題】

在公共場合中，大家很習慣尋找男廁、女廁，但假如有爸爸單獨帶嬰兒外出，常會發生因為男廁沒有設置尿布台，造成男性育兒的不方便與困擾。因此，近年來有越來越多的「性別友善廁所」出現，強調不分性別、設備統一，讓每個人都能安心使用。希望透過這樣尊重多樣性的設計，讓每個人在如廁環境中都能感到舒適和安全。

★性別友善廁所通常會有以下配置：

- 1.獨立隔間：每個隔間都有門，提供隱私。
- 2.無性別標示：不標示男性或女性，適合所有人使用。
- 3.洗手台：共用的洗手台，方便所有人使用。
- 4.適合不同需求的設備：如嬰兒護理台，無障礙設施等。
- 5.清晰指示標誌：讓使用者了解使用方式和注意事項。

- () 48. 請問：男廁未設置尿布台，其背後的觀念與價值觀，與下列何者最相同？(A)男女生在體適能測驗中有不同的標準和測試項目 (B)汽車廣告代言人以男性為主，女性多代言洗衣機 (C)老師根據學生的能力與才華，分配班級幹部 (D)家政老師要求不論男女生，都要完成圍裙設計與縫紉。
- () 49. 性別友善廁所的設置可能帶來某些好處與便利，請問：下列哪一項不屬於？(A)解決照顧者陪伴不同性別身障者上廁所的難題 (B)讓父母方便帶與自身不同性別的孩童上廁所 (C)提供獨立隔間，使用者可以享有更多隱私 (D)降低每一個人使用廁所時的排隊等待時間。
- () 50. 性別友善廁所的設立逐漸受到重視，隱含人們越來越重視何種概念？(A)人權維護只需要靠政府努力 (B)性別平權是所有人權中最重要 (C)每一個人的人性尊嚴都該被維護 (D)人權的維護需要靠政府花大錢才能做到。

試卷結束，請仔細檢查答案、畫卡