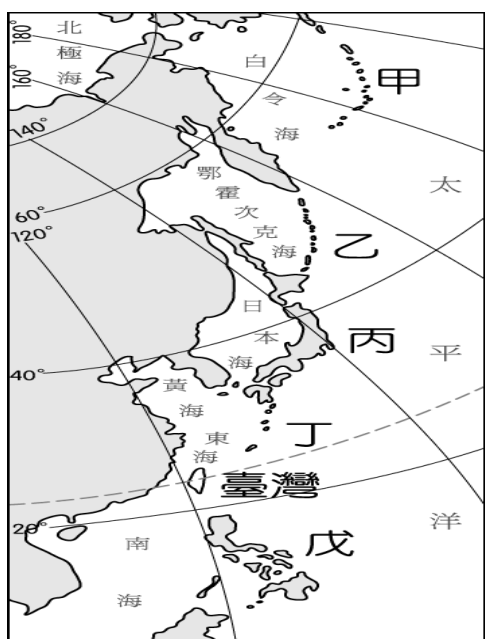


新北市立三多國民中學 113 學年度第 1 學期第 2 次定期評量 七年級社會科試題

【請依規定以 2B 鉛筆在答案卡劃記作答】

選擇題：每題 2 分(1-16 題為地理；17-33 題為歷史；34-50 題為公民)

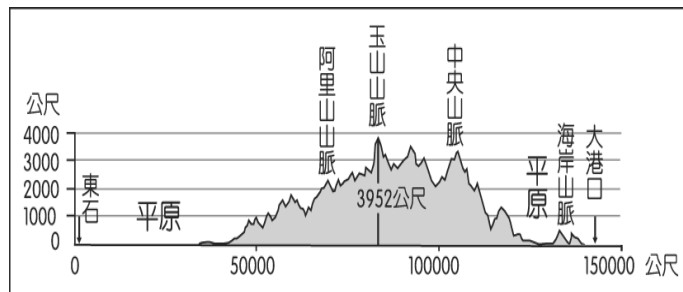
1. () 地球表面的總面積約為 5.1 億平方公里，其中海洋與陸地的面積比例與下列何者最為接近？
(A) 2：8 (B) 7：3 (C) 5：5 (D) 4：6。
2. () 來自基隆的發財一號漁船在南太平洋海域被智利的海上巡防隊扣押，原因是入侵該國的經濟海域。請問：通常國家所界定的經濟海域範圍為多少哩？
(A) 200 哩 (B) 20 哩 (C) 120 哩 (D) 12 哩。
3. () 臺灣有許多珍貴的特有生物，這和冰河時期的自然環境變遷關係密切。請問：當時許多亞洲大陸的生物透過何處遷移來臺，因此該地區被稱為生物遷移的橋梁？
(A) 巴士海峽 (B) 中央山脈 (C) 臺灣海峽 (D) 太平洋。
4. () 老師要求學生以臺灣位置圖，說明臺灣的絕對位置與相對位置，下列學生的回答，何者正確？
(A) 耀偉：臺灣的相對位置為太平洋東側
(B) 思雅：臺灣的相對位置為亞洲大陸西側
(C) 宏達：臺灣絕對位置為西經 100 度～122 度；南緯 22 度～25 度
(D) 珮如：臺灣絕對位置為東經 120 度～122 度；北緯 22 度～25 度。
5. () 雲嘉南濱海國家風景區管理處每年舉辦臺灣國際觀鳥馬拉松，參賽隊伍在 24 小時內共觀察到 172 種鳥類、臺灣特有種 16 種。雲嘉南濱海地區早期養殖漁業發達、晒鹽地廣大，提供候鳥補充長途飛行所需的能量，臺灣能成為候鳥棲地之一，與下列何者條件有關？
(A) 天敵較少 (B) 地形平緩 (C) 緯度適中 (D) 四面環海。
6. () 由歐洲、亞洲和北美洲圍起來的海域，是下列哪一海域？
(A) 大西洋 (B) 太平洋 (C) 印度洋 (D) 北極海。
7. () 臺灣四面環海，位於東亞島弧的中央，因此掌控該島群南來北往的主要交通位置，附圖為該島弧的分布圖。請問：我國位於哪兩個群島之間？



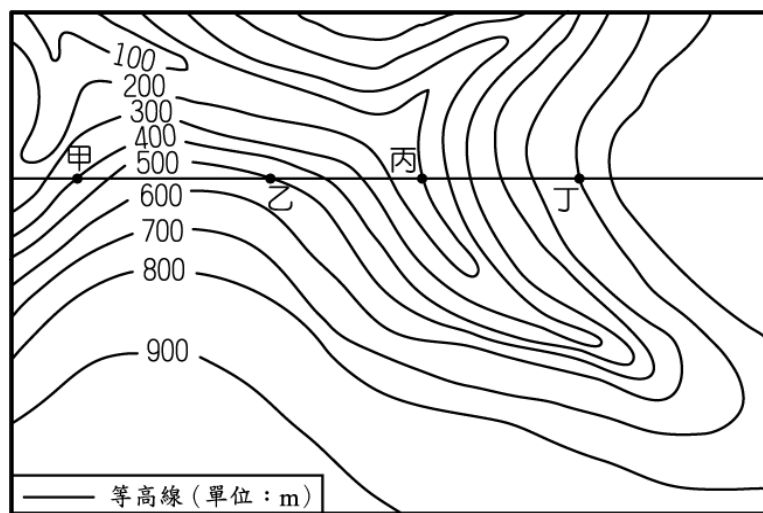
- (A) 琉球群島、菲律賓群島
- (B) 日本群島、菲律賓群島
- (C) 阿留申群島、菲律賓群島
- (D) 菲律賓群島、千島群島。

班級： 座號： 姓名：

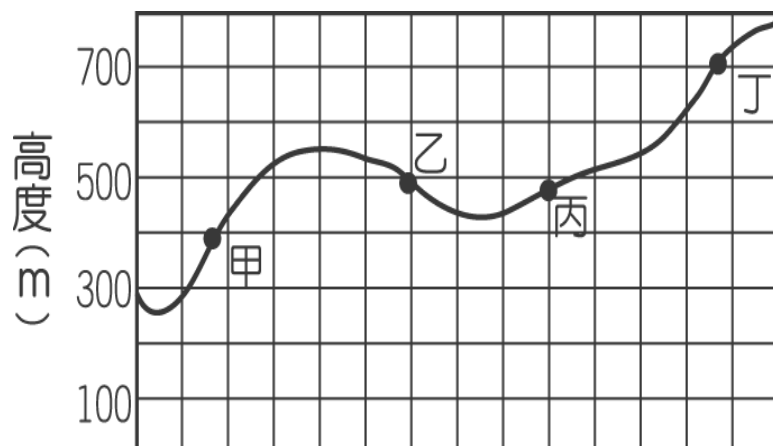
8. () 附圖為臺灣沿著北回歸線所繪製的地形剖面圖，圖中的東、西部平原依序應為下列何者？
(A) 宜蘭平原、嘉南平原 (B) 宜蘭平原、屏東平原
(C) 花東縱谷平原、嘉南平原 (D) 花東縱谷平原、屏東平原。



9. () 森林國中的同學到野外進行地理實察，透過等高線圖（如圖(一)）的觀察，了解當地的地形特色，並將其繪製成地形剖面圖。請問：在繪製剖面圖的過程中，圖(二)何點因為看錯高度而出現錯誤？
(A) 甲 (B) 乙 (C) 丙 (D) 丁。

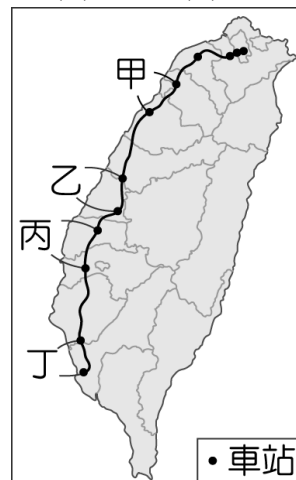


▲圖(一)

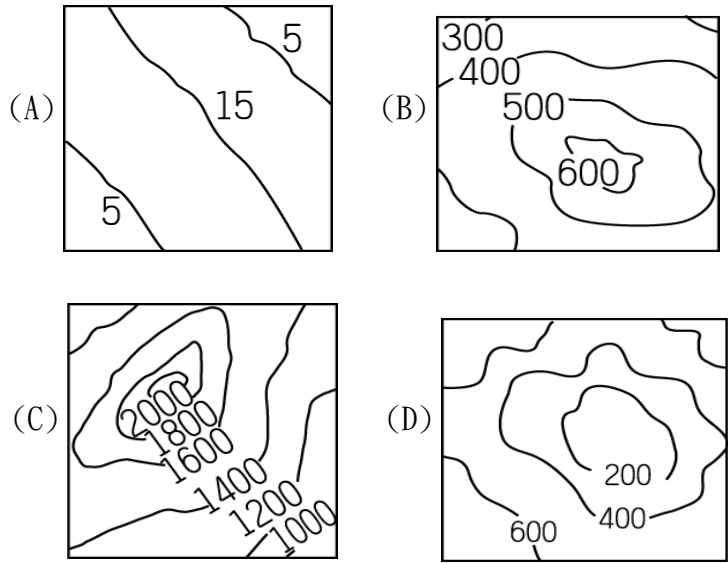


▲圖(二)

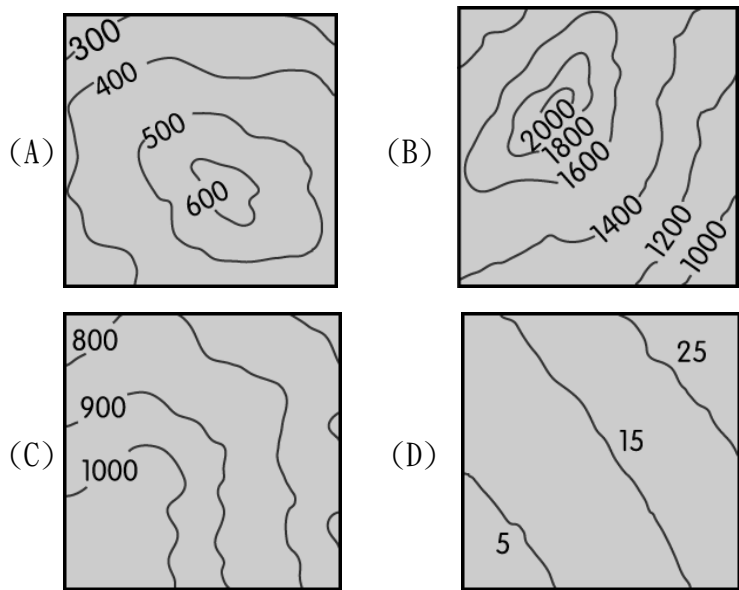
10. () 附圖為臺灣高速鐵路路線分布圖，甲、乙、丙、丁四個路段中，何者因為經過的地區丘陵地形發達，而有較多的隧道？
(A) 甲 (B) 乙 (C) 丙 (D) 丁。



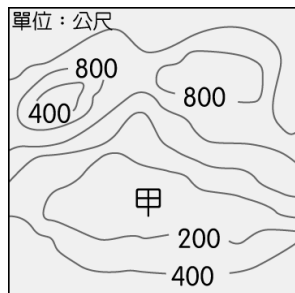
11. ()臺灣因為各地區的自然環境條件不同，區域發展程度也各不相同。請問：目前臺灣人口多聚集於下列何種地形區中？
 (A)平原、丘陵 (B)平原、山地
 (C)平原、台地 (D)平原、盆地。
12. ()2009 年臺灣因為受到莫拉克颱風的侵襲，南部地區出現大水患，甚至造成土石流淹沒整個村鎮的慘重災情。若當時救災人員想了解受災範圍，透過下列哪一種地圖可以獲得最新的相關資料？
 (A)地形剖面圖 (B)等高線地形圖
 (C)衛星影像 (D)分層設色圖。
13. ()王老師在課堂中讓學生抽籤選出不同地勢起伏的地形，再根據其特色來繪製分層設色圖。請問：下列哪一位同學所抽到的地形需要使用的顏色種類最多？



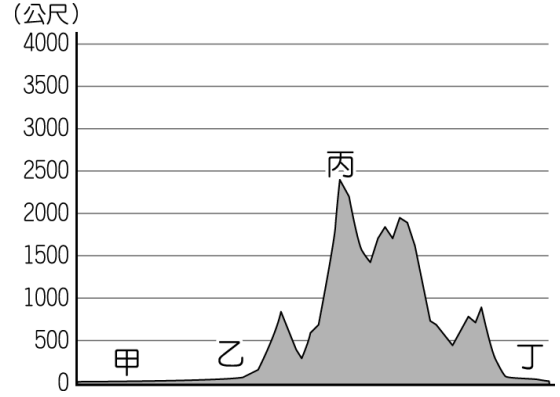
14. ()附圖為臺灣黑熊，是我國相當珍貴的保育動物，現存數量約為 200-600 隻，出沒於臺灣的山區，農委會針對其活動區域訂定相關的保育措施，以提供適當的生活環境。該動物的活動區域最接近下列何者？



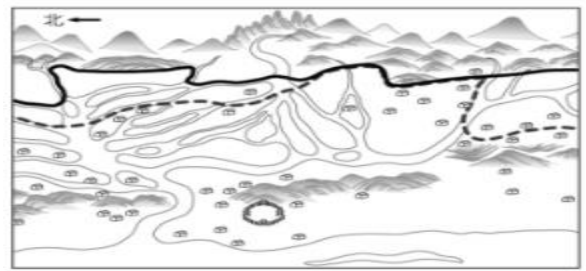
15. ()附圖是某地的等高線地形圖，依圖中的高度判斷，甲地位於何種地形？(A)丘陵 (B)台地 (C)山地 (D)盆地。



16. ()附圖為臺灣某地等高線的地形剖面圖，依圖中資料判斷，丁地至甲地的方向應該為何？(A)由北而南 (B)由東至西 (C)由西至東 (D)由南而北。



17. ()小智聽奶奶說，家裡曾經有一份清代留下來的雙語土地契約，相傳是平埔族的祖先與漢人所簽署。關於此份契約，下列敘述最適當的是？(A)這份契約是假的，因為原住民沒有文字，皆靠口耳相傳，所以不可能留下文字契約 (B)這份契約是假的，雖然契約中的文字曾被原住民所運用，但清代原住民早已不使用這種文字 (C)這份契約是真的，契約中的原住民文字，是荷蘭人幫平埔族以羅馬字母拼寫所發明 (D)這份契約是真的，這種文字一開始用於土地契約的書寫，後來逐漸擴大使用於傳教與教育。
18. ()阿卡巴是一位部落的長老，生活在1630年代的臺南地區，自從部落宣布歸順來自海外的勢力後，他便被分派了許多工作，其中應包括下列何者？(A)宣達西班牙人的政令 (B)參加地方會議 (C)鼓勵部落族人改信天主教 (D)協助官方在部落推行漢文教育。
19. ()小天翻看古地圖(如右圖)時，發現地圖上有兩種不一樣的界線，姊姊跟她解釋，兩種線代表的意義是一樣的，但實線是後來界線改變後新畫的，更往山區推進。請問：兩種界線的改變，代表下列何種情況發生？
 (A)軍隊屯墾範圍擴大 (B)漢人不斷越界開墾
 (C)外國勢力接連入侵 (D)清朝政府推動開山撫番。



20. ()西元1670年發生了一場漢人與原住民的戰爭：大肚王以武力反抗當時的政權統治，因此受到政府將領劉國軒率軍隊攻擊，造成原住民多有死傷。請問：下列選項中，何者最有可能是大肚王武力反抗政權的原因？
 (A)因為鄭氏驅趕荷蘭人導致大肚王國失去貿易對象
 (B)大肚王想取代鄭氏政權建立統治臺灣的王國
 (C)清帝國為打壓鄭氏勢力，實施的劃界封山影響到大肚王國 (D)鄭氏政權所實施的屯田政策，讓原住民的生存空間受到侵襲，引發原漢衝突。
21. ()承上題，這個由數十個原住民部落聯合組成的大肚王國，勢力範圍大約位於右圖中何處？
 (A)甲 (B)乙 (C)丙 (D)丁。



題目還有一頁哦！！！！

22. () 17世紀，某位西班牙神父撰寫的《有關福爾摩沙島近況變化的報告》，為研究臺灣歷史不可忽視的文獻。老師把文獻內容歸納為右表幾個主題，其中的「？」內容應為下列何者？

- 臺灣的礦產
- 原住民互動及貿易情況
- 對於西班牙殖民長官提出治理臺灣的相關建議
- _____?

- (A) 對雞籠、淡水地區的原住民傳播天主教
(B) 以武力降服大肚王歸順
(C) 用羅馬字母拼寫原住民語言，教導他們閱讀、書寫
(D) 聯合新港社攻打麻豆社獲勝。

23. () 清帝國擊敗臺灣的鄭氏政權後，對於臺灣的棄留出現爭議，最終康熙皇帝決定採納施琅的建議。下列何者應為施琅的主張？

- (A) 臺灣人口眾多，可以增加政府稅收
(B) 臺灣人民文化多元，可提高生活水準
(C) 臺灣位於航線樞紐，有利發展貿易
(D) 戰略地位重要，足以影響國防安全。

24. () 右表是林小莉整理家族三人的籍貫資料。根據你對臺灣史的了解，林天助籍貫名稱與其他兩人不同，最有可能與下列何者有關？

林添丁	福建省臺灣府淡水廳
林福旺	福建省臺北府基隆廳
林天助	臺灣省臺北府基隆廳

- (A) 康熙皇帝將臺灣納入清朝版圖 (B) 劉銘傳擔任巡撫
(C) 朱一貴聚眾抗清 (D) 沈葆楨來臺建設。

25. () 台灣開港通商後，一名叫傑克的英國商人，想要到台灣經營生意，他打算在剛開放的四個通商口岸中，擇一處設立公司。請問：下列哪一個地點不可能是他的選擇？

- (A) 鹿港 (B) 雞籠 (C) 安平 (D) 打狗。

26. () 19世紀後期，沈葆楨以

欽差大臣的身分來臺加強防務，在臺期間，他奏請皇帝廢除朝廷原本對臺灣實施的禁令，其主要是為了加強開發右圖中哪個區域？

- (A) 甲 (B) 乙 (C) 丙 (D) 丁。

27. () 每年的農曆七月中元祭，有一個地方會特別祭祀當年戰死異鄉的法國「好兄弟」，祭典上準備紅酒、法國

麵包以及歐元的紙錢等等，甚至還有紙紮的戰艦，充分展現了臺灣人的人情味，這個地方可能在上圖中的哪一地區？(A) 甲 (B) 乙 (C) 丙 (D) 丁。

28. () 歷史課時，老師談到清帝國統治臺灣初期頒布渡臺禁令，對漢人渡海來臺設有許多限制。以下是上課打瞌睡的阿嘉對渡臺禁令的解讀，告訴他，只有哪一項是正確？

- (A) 禁令的頒布是為了防止鄭氏政權走私貿易
(B) 禁令規定申請來臺者的可攜家帶眷
(C) 禁令造成部分漢人選擇以偷渡方式來臺
(D) 禁令自清帝國初期開始實施，至清法戰爭才廢止。

29. () 右圖為龍馬郵票，也是臺灣最早期的火車票。請問：當時來臺貿易的外國商人，就可以搭乘火車往返哪兩地通車？

- (A) 基隆、臺北 (B) 臺北、臺中
(C) 臺北、臺南 (D) 基隆、台東。



30. () 表藝課時，同學們編寫一部歷史劇的劇本，其中片段如下：(兩國代表正為某一事件進行交涉)

甲國代表：「『生番』都是化外之民，不屬於我國政府管轄。」
乙國代表：「『生番』殺人，貴國卻置之不理，故我國將出兵問罪，只是『生番』居住的地區與貴國府治相鄰為避免傷兩國和氣，所以先行奉告。」

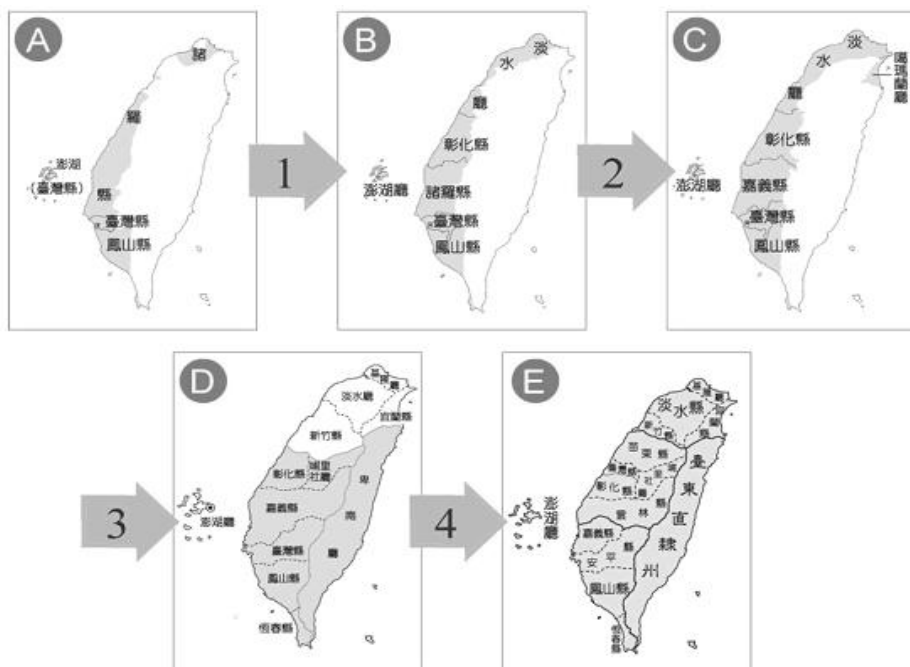
甲國代表：「『生番』既屬我國化外，問罪不問罪，由貴國裁奪。」
……不久，乙國派兵至臺灣。

請從劇本判斷甲、乙兩國分別代表哪個國家？

- (A) 甲：琉球、乙：中國 (B) 甲：中國、乙：日本
(C) 甲：日本、乙：琉球 (D) 甲：日本、乙：中國。

◎【請回答 31~33 題】

歷史課時，老師在黑板上呈現五張清領時期台灣行政區的演變圖如下，並請同學觀察行政區演變的經過。



31. () 根據上圖所示，四個箭號分別發生的事件配對，請問下列敘述何者正確？

- (A) 箭頭1：林爽文事件 (B) 箭頭2：朱一貴事件
(C) 箭頭3：英法聯軍 (D) 箭頭4：清法戰爭。

32. () 清廷派遣官員「甲」治理臺灣，臺灣行政區劃演變成【圖D】，下列何者不是官員「甲」在臺的建設？

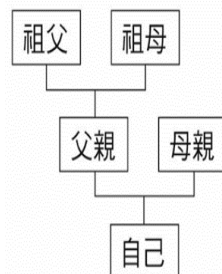
- (A) 廢除渡臺禁令 (B) 開山撫番
(C) 安平修建西式炮臺 (D) 購置輪船。

33. () 清廷派遣官員「乙」治理臺灣，臺灣行政區劃演變成【圖E】，下列何者不是官員「乙」在臺的建設？

- (A) 設立郵局，發行郵票
(B) 架設電報線至福建福州
(C) 調整行政區劃二府十一縣三廳一直隸州
(D) 設置西學堂與電報學堂。

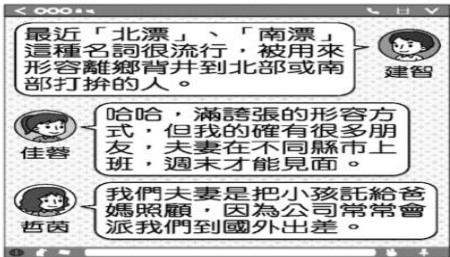
34. () 于小淳與陳小翔是一對雙胞胎兄弟。同班同學好奇詢問，為何兄弟兩人不同姓氏，老師補充說明，依據法律規定，父母應以書面約定子女從父姓或母姓，沒有強制規定要從父姓。請問：這部法律應該是？(A) 民法 (B) 憲法 (C) 國籍法 (D) 性別平等工作法。

35. () 右圖是俊哥在課堂中繪製的家庭親屬關係圖，他和爸爸兩人都是家中的獨子，請問：由此圖判斷，哪一種親屬關係沒有出現？(A) 配偶 (B) 旁系血親
(C) 姻親 (D) 直系血親。



注意：背面還有題目，請翻面繼續作答

36. ()人工生殖法第一條：「為健全人工生殖之發展，保障不孕夫妻、人工生殖子女與捐贈人之權益，維護國民之倫理及健康，特制定本法。」請問，由以上可得知，此法的制定有助於下列何項家庭功能的積極發揮？
(A)經濟功能 (B)教育功能
(C)生育功能 (D)保護與照顧功能。
- 37.()根據官方資料，台灣預計在 2025 年正式成為超高齡社會，65 歲以上的人口比例將達到 20% 以上。近年來，政府正積極推動相關的因應政策，請問下列哪一項措施有此現象最無關聯？
(A)推動長照人才的培訓 (B)提供獨居老人共餐服務
(C)增加日間照顧與到宅服務 (D)創造友善的育嬰托育環境。
- 38.()綺綺和爸媽與親戚們在餐廳聚餐，右圖為座位配置圖。若綺綺的兩旁分別坐著他的姻親和旁系血親，而爸爸則坐在兩位旁系血親中間。請問：綺綺和爸爸最有可能分別坐在哪一位置？
(A)綺綺：A 位置、爸爸：B 位置
(B)綺綺：B 位置、爸爸：A 位置
(C)綺綺：C 位置、爸爸：D 位置
(D)綺綺：D 位置、爸爸：B 位置。
39. ()在性別平權的潮流下，配偶間的權利與義務關係受到重視，政府也努力修正法律以符合家庭內的平權，但以現實狀況來說，臺灣社會的確尚有許多進步空間。以下關於臺灣社會中的家務勞動敘述，請找出最不符合的選項？
(A)家務勞動包含了煮飯、打掃、教育子女等相關的事項
(B)家務勞動的分工不均容易使婦女難以兼顧工作與家庭
(C)因受性別刻板印象影響，導致家務勞動多由女性承擔
(D)「男主外、女主內」的思維妨礙男性在職場上的參與。
40. ()羅小香的姊姊羅靜香要結婚了，下圖是他的喜帖內容，請判斷以下敘述何者錯誤？
(A)王大雄與羅靜香將成為配偶
(B)王大雄與陳春嬌將成為姻親
(C)王英俊與羅志明將成為姻親
(D)羅小香與羅靜香是旁系血親。
- 
41. ()新聞報導，一名女子疑似因為想和男友復合，被拒絕後情緒失控，跑到男方家門口潑灑汽油作為警告。所幸男子及時報警，警方到場阻止並建議男方聲請家暴保護令。請問，關於保護令可以提供的保護，何者錯誤？
(A)要求加害人不得靠近被害人
(B)要求加害人賠償金錢給被害人
(C)要求加害人搬離被害人的住所
(D)要求加害人不得再對被害人進行騷擾。
42. ()傳統觀念認為子女應孝順父母，父母有權為孩子決定一切事務；現代社會重視兒童人權，尊重孩子是獨立個體，強調親子平權的概念。請問，下列關於現代子女權益保障的敘述，何者是正確的？

- (A)夫妻離婚，子女的監護權應由男方取得
(B)我國《憲法》規定父母有保護與教養子女的義務
(C)父母過世後，子女不論男女，都可以平等繼承遺產
(D)子女拒絕照顧父母，甚至遺棄，會被停止行使親權。
43. ()現代社會雙薪家庭普及，但根據我國政府的統計資料，女性平均每日花費在家務上的時間約為 2-3 小時，男性則約為 30 分鐘-1 小時，可見家庭中的家務工作由女性負責的比例仍比男性要高出許多，請問這顯現了何種現象？
(A)家庭型態已轉變為更多元
(B)男女平權的現象已經落實
(C)女性常常是家庭暴力的受害者
(D)家務分工不均仍普遍存在。
44. ()小明幫父親買麵線時，忘記告知老闆不要加香菜，回家後遭到父親毆打，身受重傷送到醫院急救。請問：發生如此嚴重的家暴事件，下列哪一個單位可以宣告限制或禁止小明的父親行使親權？
(A)學校 (B)法院 (C)警察局 (D)社會局。
- 45.()內政部日前公布「國安危機—少子化浪潮」報告，針對 30 至 49 歲青壯年之婚育比例、平均年齡等進行分析，想對此找出可能的因應措施。請問，以下措施何者最可能改善此現象？
(A)提高幼兒教育補助金額 (B)增加高中大學的學校數量
(C)提供弱勢學童輔導課程 (D)增設高齡安養照護機構。
46. ()某對夫妻因為對孩子的課業寄予重望，只要小孩考試成績不理想，就會把他關在鐵籠中懲罰，鄰居發現後向警察報案。請問，依照我國法律規定，這對夫妻可能會受到何種處罰？
(A)要求與小孩斷絕血緣關係 (B)由法院裁定離婚協議
(C)被停止親權的行使權 (D)父母有管教權，不會被處罰。
- 47.()過去的法律採取父權優先，子女的監護權原則上判給父親，但隨著時代的變遷，法律也已做出修改，請問目前對於子女監護權的歸屬，法官會以何種原則來衡量？
(A)經濟收入較多的一方 (B)家庭人數較多的一方
(C)可以接送小孩上下學的一方 (D)綜合判斷子女的最佳利益。
- 48.()志明離婚後與小孩-豪豪相依為命，經過多年的尋覓，他再次遇到擁有家財萬貫的真愛-春嬌，並且決定與她再婚。請問：下列關於他們一家三口的描述，何者正確？
(A)假設春嬌沒有收養豪豪，他們只是姻親關係
(B)假設春嬌要收養豪豪，必須去戶政事務所登記
(C)假設春嬌沒有收養豪豪，豪豪也有權利繼承春嬌的遺產
(D)由於春嬌家財萬貫，因此志明對於自己的收入不該擁有經濟自主權。
- 49.()幾位好友利用通訊軟體分享近況，如右圖所示。請問：談話內容中呈現的家庭生活模式，最可能是受到下列何項因素的影響？(A)生育率下降 (B)醫療環境改善
(C)婚姻自主性提升 (D)工作地點轉變。
- 50.()接續上題，請問哲茵的小孩應該是生活在哪一種家庭型態？(A)跨國婚姻家庭 (B)隔代教養家庭
(C)單親家庭 (D)重組家庭。
- 

試題結束，請仔細檢查答案、畫卡